

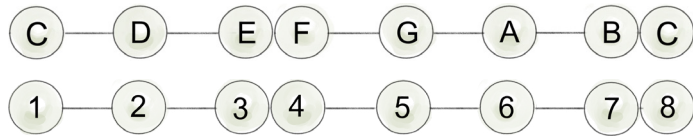


Werkblad 3: majeur toonladders (blad 1 van 2)

De toonladder van C majeur is het voorbeeld voor de andere majeurtoonladders.

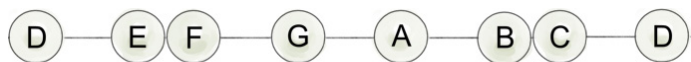
Bij alle majeurtoonladders zit er een halve toonafstand tussen toon 3 en 4 en tussen toon 7 en 8.

Als je dit patroon volgt kun je vanaf elke grondtoon (tonica) een majeurtoonladder bouwen!



1. De toonladder van D majeur: vul in.

Hier zie je de **stamtonen** vanaf D:



Bouw nu de **toonladder van D majeur**.

Vul de goede notennamen in:



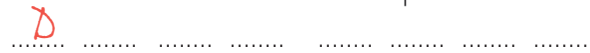
Hoeveel kruizen heeft de toonladder?

De toonladder van D majeur heeft kruizen.

Zet de kruizen bij de sleutel:



Vul de notennamen in:



2. De toonladder van Bes majeur: vul in.

Hier zie je de **stamtonen** vanaf Bes:



Bouw nu de **toonladder van Bes majeur**.

Vul de goede notennamen in:



Hoeveel mollen heeft de toonladder?

De toonladder van Bes majeur heeft..... mollen.

Zet de mollen bij de sleutel:



Vul de notennamen in:



3. De toonladder van A majeur: vul in.

Hier zie je de **stamtonen** vanaf A:



Bouw nu de **toonladder van A majeur**.

Vul de goede notennamen in:




Hoeveel kruizen heeft de toonladder?

De toonladder van A majeur heeft..... kruizen.

Zet de kruizen de sleutel:



Vul de notennamen in:





Werkblad 3: majeur toonladders (blad 2 van 2)

4. De toonladder van Es majeur: vul in.

Hier zie je de **stamtonen** vanaf Es:



Bouw nu de **toonladder van Es majeur**.

Vul de goede notennamen in:



Hoeveel mollen heeft de toonladder?

De toonladder van Es majeur heeft..... mollen.

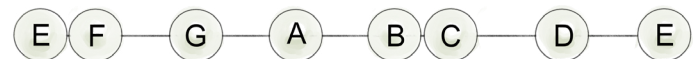
Zet de mollen bij de sleutel:



Vul de notennamen in:

5. De toonladder van E majeur: vul in.

Hier zie je de **stamtonen** vanaf E:



Bouw nu de **toonladder van E majeur**.

Vul de goede notennamen in:



Hoeveel kruizen heeft de toonladder?

De toonladder van E majeur heeft..... kruizen.

Zet de kruizen bij de sleutel:



Vul de notennamen in:

6. De toonladder van As majeur: vul in.

Hier zie je de **stamtonen** vanaf As:



Bouw nu de **toonladder van As majeur**.

Vul de goede notennamen in:



Hoeveel mollen heeft de toonladder?

De toonladder van As majeur heeft..... mollen.

Zet de mollen bij de sleutel:



Vul de notennamen in:

7. De kwintencirkel: vul in.

In deze kwintencirkel zitten een paar lege plekken.

Zet de grondtoon van de toonladders van

D, Bes, A, Es, E, en As bij de goede voortekens.

